

3

古墳とその時代


こふんとそのじだい

わからないことはガイドボランティアさんに質問してみよう。

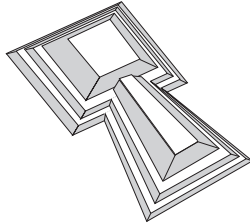
「3 古墳とその時代」の資料で、古墳について調べよう。

☆古墳の形にはどんなものがあるかな？

◎ヒント：しらべーる君4の「古墳のかたち」を見てね。



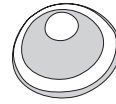
ぜんぽうこうえんふん
前方後円墳



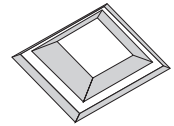
ぜんぽうこうほうふん
前方後方墳



ほたてがいがたこふん
帆立貝形古墳



えんふん
円墳



ほうふん
方墳

ほかに八角墳、上円下方墳、双円墳など様々な形がありますが、名古屋市では見つかっていません。

☆愛知県最大の古墳、「断夫山古墳」について調べよう。

「断夫山古墳」の形は、上のうちのどれ？

断夫山古墳の形

前方後円墳

「断夫山古墳」の大きさは？

断夫山古墳の大きさ

長さ 約 150 m

☆古墳からはさまざまなものが出土しています。

展示してあるもののなかから二つをえらび、絵をかいてみましょう。

東海地方で最大級の古墳で、熱田区旗屋の皇宮公園の中にあります。他に、岐阜県大垣市昼飯大塚(ひるいおおつか)古墳も同じぐらいの大きさです。

絵
名前

絵
名前

☆古墳や出土品の展示を見て、思ったことや考えたことをまとめてみよう。

自由に書いて、先生や友達と話し合ってみよう。

