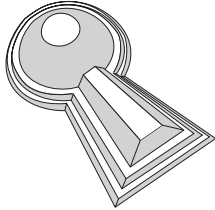


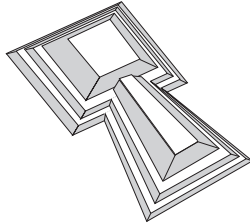
「3 古墳とその時代」の資料で、古墳について調べよう。

☆古墳の形にはどんなものがあるかな？

◎ヒント：しらべーる君4の「古墳のかたち」を見てね。



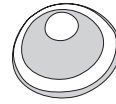
ぜんぽうこうえんふん
前方後円墳

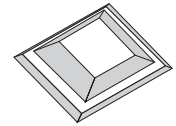


ぜんぽうこうほうふん
前方後方墳



ほたてがいがたこふん
帆立貝形古墳





☆愛知県最大の古墳、^{だんぶさんこふん}「断夫山古墳」について調べよう。

「断夫山古墳」の形は、上のうちのどれ？

断夫山古墳の形

「断夫山古墳」の大きさは？

断夫山古墳の大きさ

長さ 約 m

☆古墳からはさまざまなものが出土しています。

展示してあるもののなかから二つをえらび、絵をかいてみましょう。

絵
名前

絵
名前

☆古墳や出土品の展示を見て、思ったことや考えたことをまとめてみよう。

